

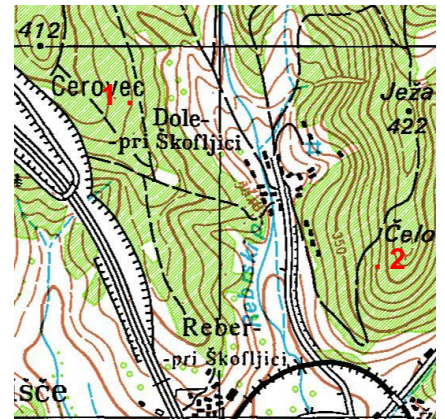
GG RACE 2017

TOPO TEST 1 – GG STAREJŠI

Ime ekipe: _____

Številka ekipe: _____

Rod: _____





1. RELATIVNA VIŠINSKA RAZLIKA MED 1 IN 2: _____

2. OBRAZLOŽI, KAJ JE MERILO IN NAŠTEJ VRSTE MERIL.

3. OBRAZLOŽI, KAJ SO TO PADNICE.

4. POIMENUJ TOPOGRAFSKE ZNAKE.

△	•		△ 769	

5. NARIŠI TOPOGRAFSKE ZNAKE.

izobata globine 5 m	vrtača	posamezno drevo	pomožna plastnica	cerkev z dvema ali več zvoniki

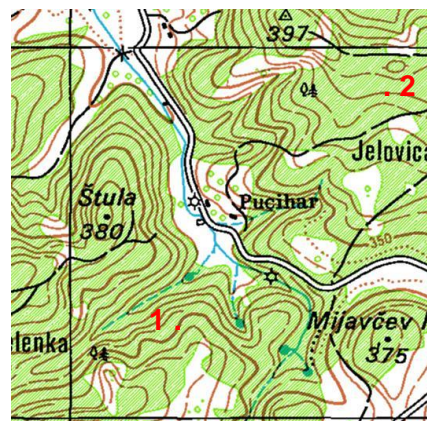
GG RACE 2017

TOPO TEST 2 – GG STAREJŠI

Ime ekipe: _____

Številka ekipe: _____

Rod: _____



1. RELATIVNA VIŠINSKA RAZLIKA MED 1 IN 2: _____

2. OBRAZLOŽI, KAJ JE TO RELATIVNA VIŠINA.

3. NAŠTEJ RAZLIČNE SEVERE IN OPIŠI RAZLIKE MED NJIMI. (lahko tudi s skico)

4. POIMENUJ TOPOGRAFSKE ZNAKE.

--	--	--	--	--

5. NARIŠI TOPOGRAFSKE ZNAKE.

kamnolom (kamnokop)	vinograd	kota	podzemna jama brez vode	kozolec

GG RACE 2017

TOPO TEST 3 – GG STAREJŠI

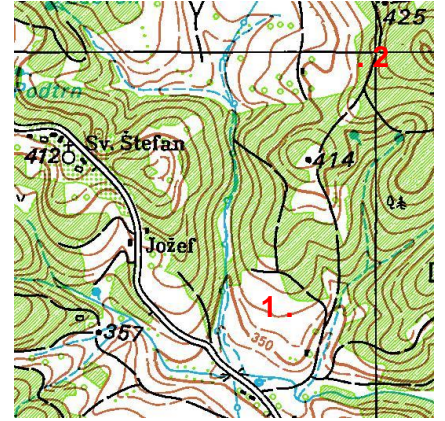
Ime ekipe: _____

Številka ekipe: _____

Rod: _____






1. RELATIVNA VIŠINSKA RAZLIKA MED 1 IN 2: _____

2. OBRAZLOŽI, KAJ JE AZIMUT.



3. OBRAZLOŽI, KAJ JE TO GEOGRAFSKA ŠIRINA.

4. POIMENUJ TOPOGRAFSKE ZNAKE.

				
---	---	---	---	---

5. NARIŠI TOPOGRAFSKE ZNAKE.

plavajoči mlin	potok	prehodno močvirje	žičnica, vzpenjača	steza, pešpot

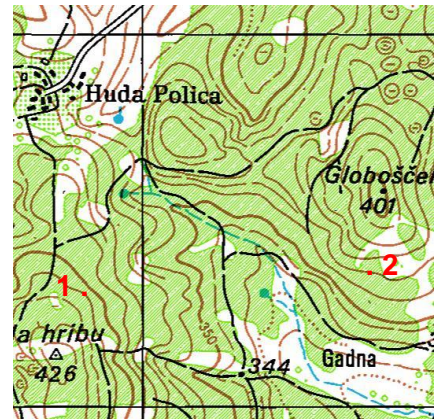
GG RACE 2017

TOPO TEST 4 – GG STAREJŠI

Ime ekipe: _____

Številka ekipe: _____

Rod: _____



1. RELATIVNA VIŠINSKA RAZLIKA MED 1 IN 2: _____

2. OBRAZLOŽI, KAJ JE TO SKICA TERENA.

3. NAŠTEJ ELEMENTE ZUNANJEGA OKVIRA ZEMLJEVIDA. (vsaj 6)

4. POIMENUJ TOPOGRAFSKE ZNAKE.

--	--	--	--	--

5. NARIŠI TOPOGRAFSKE ZNAKE.

državna meja	svetilnik	sidrišče za velike ladje	vinograd	naravni odsek, stopnja

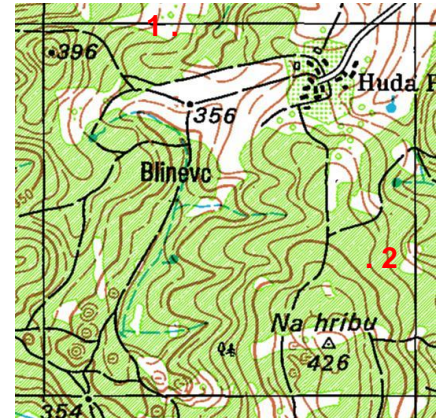
GG RACE 2017

TOPO TEST 5 – GG STAREJŠI

Ime ekipe: _____

Številka ekipe: _____

Rod: _____



1. RELATIVNA VIŠINSKA RAZLIKA MED 1 IN 2: _____

2. NAŠTEJ GLAVNE SMERI NEBA.

3. OBRAZLOŽI, KAJ STA NAGIB IN NAKLON TERENA.

4. POIMENUJ TOPOGRAFSKE ZNAKE.

--	--	--	--	--

5. NARIŠI TOPOGRAFSKE ZNAKE.

cerkev z dvema ali več zvoniki	kup kamenja	žična ograja	žaga	podporni zid