

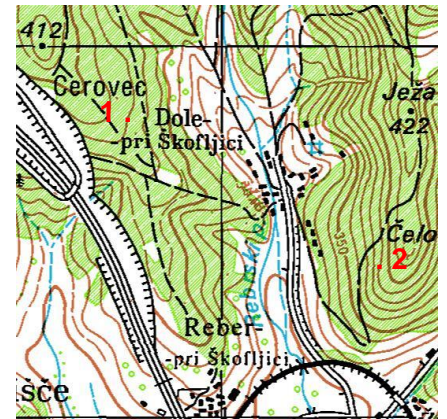
# GG RACE 2017

## TOPO TEST 1 – GG MLAJŠI

Ime ekipe: \_\_\_\_\_

Številka ekipe: \_\_\_\_\_

Rod: \_\_\_\_\_



1. RELATIVNA VIŠINSKA RAZLIKA MED 1 IN 2: \_\_\_\_\_

2. OBRAZLOŽI, KAJ SO TO TOPOGRAFSKI ZNAKI.

3. OBRAZLOŽI, KAJ JE TO REAMBULACIJA.

4. POIMENUJ TOPOGRAFSKE ZNAKE.

--	--	--	--	--

5. NARIŠI TOPOGRAFSKE ZNAKE.

izobata globine 5 m	vrtča	posamezno drevo	pomožna plastnica	cerkev z dvema ali več zvoniki

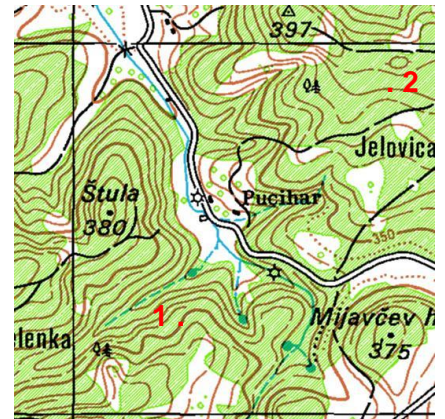
# GG RACE 2017

## TOPO TEST 2 – GG MLAJŠI

Ime ekipe: \_\_\_\_\_

Številka ekipe: \_\_\_\_\_

Rod: \_\_\_\_\_



1. RELATIVNA VIŠINSKA RAZLIKA MED 1 IN 2: \_\_\_\_\_

2. OBRAZLOŽI, KAJ JE TO ABSOLUTNA VIŠINA.

3. OPIŠI, KAJ JE TO IZOHIPSA.

4. POIMENUJ TOPOGRAFSKE ZNAKE.

--	--	--	--	--

5. NARIŠI TOPOGRAFSKE ZNAKE.

kamnolom (kamnokop)	vinograd	kota	podzemna jama brez vode	kozolec

# GG RACE 2017

## TOPO TEST 3 – GG MLAJŠI

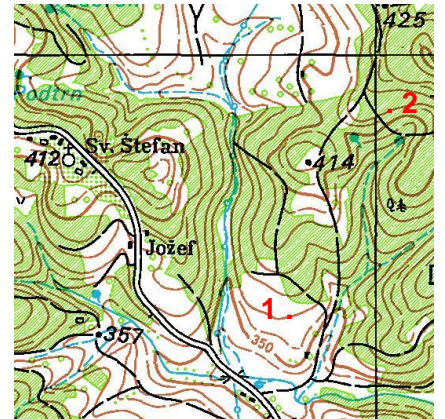
Ime ekipe: \_\_\_\_\_

Številka ekipe: \_\_\_\_\_

Rod: \_\_\_\_\_

1. RELATIVNA VIŠINSKA RAZLIKA MED 1 IN 2: \_\_\_\_\_

2. OBRAZLOŽI, KAJ JE AZIMUT.



3. OBRAZLOŽI, KAJ JE TO GEOGRAFSKA DOLŽINA.

4. POIMENUJ TOPOGRAFSKE ZNAKE.

--	--	--	--	--

5. NARIŠI TOPOGRAFSKE ZNAKE.

cerkev z dvema ali več zvoniki	potok	prehodno močvirje	žičnica, vzpenjača	steza, pešpot

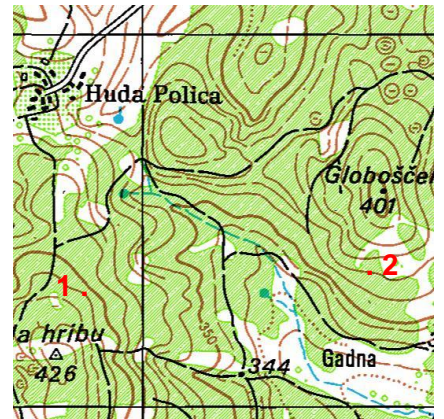
# GG RACE 2017

## TOPO TEST 4 – GG MLAJŠI

Ime ekipe: \_\_\_\_\_

Številka ekipe: \_\_\_\_\_

Rod: \_\_\_\_\_



1. RELATIVNA VIŠINSKA RAZLIKA MED 1 IN 2: \_\_\_\_\_

2. OBRAZLOŽI, KAJ JE TO SKICA TERENA.

3. OBRAZLOŽI, KAJ POMENI KRATICA DTK25 IN KJE SE JO UPORABLJA.

4. POIMENUJ TOPOGRAFSKE ZNAKE.

			t	
--	--	--	---	--

5. NARIŠI TOPOGRAFSKE ZNAKE.

kota	svetilnik	sidrišče za velike ladje	vinograd	naravni odsek, stopnja

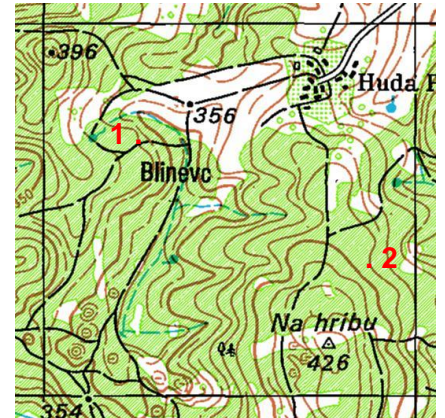
# GG RACE 2017

## TOPO TEST 5 – GG MLAJŠI

Ime ekipe: \_\_\_\_\_

Številka ekipe: \_\_\_\_\_

Rod: \_\_\_\_\_



- RELATIVNA VIŠINSKA RAZLIKA MED 1 IN 2: \_\_\_\_\_
- OBRAZLOŽI, KAJ JE RELIEF IN KAKO GA LAHKO PRIKAZUJEMO NA ZEMLJEVIDU.

3. POLN KROG JE ENAK 360°. KOLIKO JE TO V GRADIH IN KOLIKO V TISOČINIH?

4. POIMENUJ TOPOGRAFSKE ZNAKE.

--	--	--	--	--

5. NARIŠI TOPOGRAFSKE ZNAKE.

cerkev z dvema ali več zvoniki	kup kamenja	žična ograja	žaga	osamljen grob